

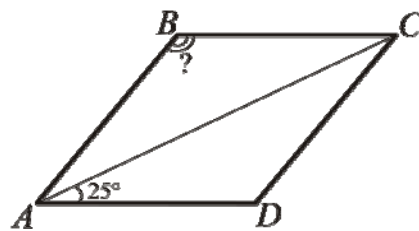
ЗОВНІШНЄ НЕЗАЛЕЖНЕ ОЦІНЮВАННЯ
З МАТЕМАТИКИ 2010 РОКУ (ОСНОВНА СЕСІЯ №2)
Відповідність завдань тесту з математики чинним підручникам

1. Обчисліть $1001^2 - 999^2$.

А	Б	В	Г	Д
2	4	2000	3980	4000

Бевз Г.П. Алгебра: Підруч. для 7-9 кл. – К.: Школяр, 2002. – С. 49-52.

2. На рисунку зображено ромб $ABCD$. Знайдіть градусну міру кута ABC , якщо $\angle CAD = 25^\circ$.



А	Б	В	Г	Д
155°	130°	120°	100°	50°

Бевз Г.П., Бевз В.Г., Владімірова Н.Г. Геометрія. Підруч. для 7-9 кл. загальноосвіт. навч. закл. – К.: Вежа, 2004. – С. 102-104.

3. Перед Новим роком у магазині побутової техніки на всі товари було знижено ціни на 15%. Скільки коштуватиме після знижки телевізор вартістю 1800 грн?

А	Б	В	Г	Д
1200 грн	1350 грн	1430 грн	1530 грн	1785 грн

Бевз Г.П., Бевз В.Г. Математика: Підруч. для 5 кл. загальноосвіт. навч. закл. – К.: Зодіак-ЕКО, 2005. – С. 302-309.

4. Обчисліть $\frac{1}{3} + \frac{2}{3} \cdot \frac{5}{8}$.

А	Б	В	Г	Д
$\frac{3}{4}$	$\frac{2}{5}$	$\frac{11}{27}$	$\frac{3}{5}$	$\frac{5}{8}$

Бевз Г.П., Бевз В.Г. Математика: 6 кл.: Підруч. для загальноосвіт. навч. закл. – К.: Генеза, 2006. – С. 62-64, 75-78.

Мерзляк А.Г., Полонський В.Б., Якір М.С. Математика: Підручник для 6 класу. – Х.: Гімназія, 2006. – С. 52-54, 62-64.

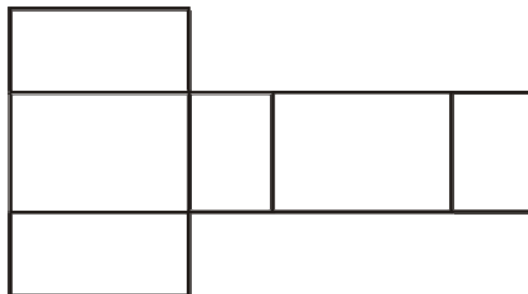
Янченко Г.М., Кравчук В.Р. Математика: Підручник для 6 класу. – Тернопіль: Підручники і посібники, 2006. – С. 51-54, 66-68.

5. Спростіть вираз $(a^6)^4 : a^2$, де $a \neq 0$.

А	Б	В	Г	Д
a^5	a^8	a^{10}	a^{12}	a^{22}

Бевз Г.П. Алгебра: Підруч. для 7-9 кл. – К.: Школяр, 2002. – С. 28-29, 96.

6. На рисунку зображено розгортку многогранника. Визначте кількість його ребер.



А	Б	В	Г	Д
6	8	12	16	19

Бевз Г.П., Бевз В.Г., Владімірова Н.Г. Геометрія. Підруч. для 10-11 кл. загальноосвіт. навч. закл. – К.: Вежа, 2004. – С. 102-104, 110-113.

7. Обчисліть $\sin 210^\circ$.

А	Б	В	Г	Д
$-\frac{1}{2}$	$\frac{\sqrt{3}}{2}$	$-\frac{\sqrt{2}}{2}$	$-\frac{\sqrt{3}}{2}$	$\frac{1}{2}$

Шкіль М.І., Слєпкань З.І., Дубинчук О.С. Алгебра і початки аналізу: Підруч. для 10 кл. загальноосвіт. навч. закладів. – К.: Зодіак-ЕКО, 2002. – С. 81-82.

Нелін Є.П. Алгебра і початки аналізу: Дворівневий підруч. для 10 кл. загальноосвіт. навч. закладів. – Х.: Світ дитинства, 2006. – С.90-93.

8. Осьовим перерізом циліндра є прямокутник, діагональ якого дорівнює 10 см. Знайдіть радіус основи циліндра, якщо його висота дорівнює 8 см.

А	Б	В	Г	Д
1 см	2 см	3 см	6 см	12 см

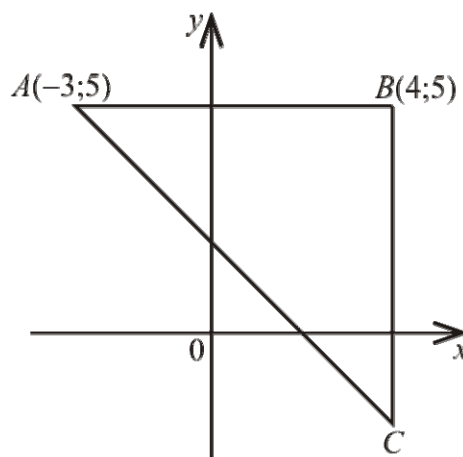
Бевз Г.П., Бевз В.Г., Владімірова Н.Г. Геометрія. Підруч. для 10-11 кл. загальноосвіт. навч. закл. – К.: Вежа, 2004. – С. 134-136.

9. Розв'яжіть систему $\begin{cases} 3x - 2y = 9, \\ x + 2y = -5. \end{cases}$ Для одержаного розв'язку $(x_0; y_0)$ обчисліть суму $x_0 + y_0$.

А	Б	В	Г	Д
-2	-1	1	2	-4

Бевз Г.П. Алгебра: Підруч. для 7-9 кл. – К.: Школяр, 2002. – С. 77-84.

10. У прямокутній системі координат зображено прямокутний рівнобедрений трикутник ABC , в якому $A(-3; 5)$ і $B(4; 5)$ (див. рисунок). Знайдіть координати точки C .



А	Б	В	Г	Д
$(4; -3)$	$(4; -2)$	$(5; -3)$	$(-2; 4)$	$(4; -1)$

Бевз Г.П., Бевз В.Г., Владімірова Н.Г. Геометрія. Підруч. для 7-9 кл. загальноосвіт. навч. закл. – К.: Вежа, 2004. – С. 55-61, 153-154.

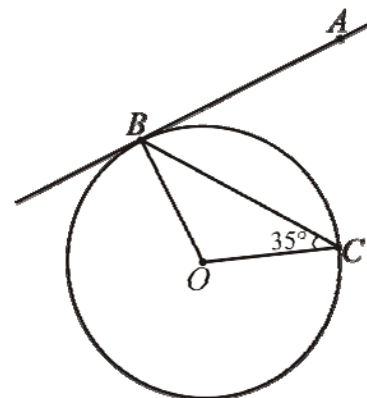
11. Серед чисел $a = \sqrt{5} - 2$, $b = 2\sqrt{3} - 3\sqrt{2}$, $c = \sqrt[3]{3} - \sqrt[3]{2}$ укажіть усі додатні.

А	Б	В	Г	Д
a	c	$a; b$	$a; c$	$a; b; c$

Шкіль М.І., Слєпкань З.І., Дубинчук О.С. Алгебра і початки аналізу: Підруч. для 10 кл. загальноосвіт. навч. закладів. – К.: Зодіак-ЕКО, 2002. – С. 137-149.

Нелін Є.П. Алгебра і початки аналізу: Дворівневий підруч. для 10 кл. загальноосвіт. навч. закладів. – Х.: Світ дитинства, 2006. – С. 262-275.

12. До кола з центром у точці O проведено дотичну AB (B – точка дотику). BC – хорда, що утворює з радіусом кола кут 35° (див. рисунок). Знайдіть градусну міру кута ABC .



А	Б	В	Г	Д
35°	45°	55°	65°	70°

Бевз Г.П., Бевз В.Г., Владімірова Н.Г. Геометрія. Підруч. для 7-9 кл. загальноосвіт. навч. закл. – К.: Вежа, 2004. – С. 55-56, 68-71.

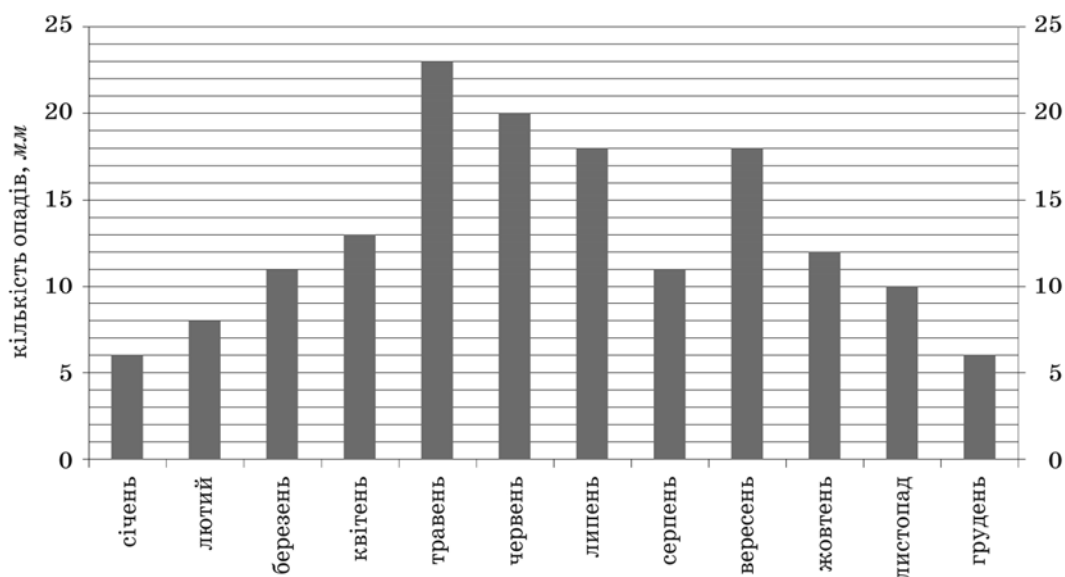
13. У скільки разів збільшиться об'єм кулі, якщо її радіус збільшити у 2 рази?

А	Б	В	Г	Д
у 2 рази	у 4 рази	у 6 разів	у 8 разів	у 16 разів

Бевз Г.П., Бевз В.Г., Владімірова Н.Г. Геометрія. Підруч. для 10-11 кл. загальноосвіт. навч. закл. – К.: Вежа, 2004. – С. 183-184.

14. Діаграма, зображена на рисунку, містить інформацію про кількість опадів (у мм), що випали упродовж року в місті *N*. Користуючись діаграмою, установіть, які з наведених тверджень є правильними.

- I. Улітку опадів випало менше, ніж навесні.
 II. У вересні опадів випало у 1,5 рази більше, ніж у жовтні.
 III. Середня місячна кількість опадів за рік становить 19 мм.



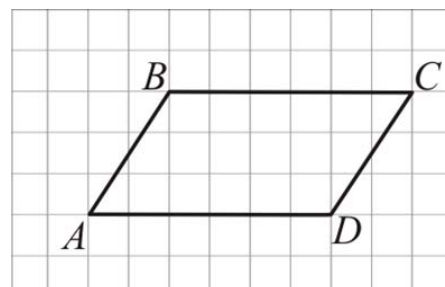
А	Б	В	Г	Д
лише I	лише II	лише I і II	лише II і III	лише I і III

Бевз Г.П., Бевз В.Г. Математика: 6 кл.: Підруч. для загальноосвіт. навч. закл.. – К.: Генеза, 2006. – С. 156-159.

Мерзляк А.Г., Полонський В.Б., Якір М.С. Математика: Підручник для 6 класу. – Х.: Гімназія, 2006. – С. 147-148.

Янченко Г.М., Кравчук В.Р. Математика: Підручник для 6 класу. – Тернопіль: Підручники і посібники, 2006. – С. 149-151.

15. На папері у клітинку зображено паралелограм $ABCD$, вершини якого збігаються з вершинами клітинок (див. рисунок). Знайдіть площу паралелограма $ABCD$, якщо кожна клітинка є квадратом зі стороною завдовжки 1 см.



А	Б	В	Г	Д
9 см^2	12 см^2	15 см^2	18 см^2	24 см^2

Бевз Г.П., Бевз В.Г., Владімірова Н.Г. Геометрія. Підруч. для 7-9 кл. загальноосвіт. навч. закл. – К.: Вежа, 2004. – С. 229-230.

16. Якому з наведених проміжків належить корінь рівняння $\log_3 x = 2$?

А	Б	В	Г	Д
$(-4; -1]$	$(-1; 2]$	$(2; 5]$	$(5; 8]$	$(8; 11]$

Шкіль М.І., Слєпкань З.І., Дубинчук О.С. Алгебра і початки аналізу: Підруч. для 10 кл. загальноосвіт. навч. закладів. – К.: Зодіак-ЕКО, 2002. – С. 234-239.

Нелін Є.П. Алгебра і початки аналізу: Дворівневий підруч. для 10 кл. загальноосвіт. навч. закладів. – Х.: Світ дитинства, 2006. – С. 373-382.

17. Обчисліть скалярний добуток векторів $\vec{a}(-3; 2; -1)$ і $\vec{b}(-1; -4; 5)$.

А	Б	В	Г	Д
120	26	0	-10	-16

Бевз Г.П., Бевз В.Г., Владімірова Н.Г. Геометрія. Підруч. для 10-11 кл. загальноосвіт. навч. закл. – К.: Вежа, 2004. – С. 84-85.

18. На полиці знаходяться 18 однакових скляних банок із джемом. Серед них 6 банок з абрикосовим джемом, 12 – з яблучним. За кольором джеми не відрізняються один від одного. Господиня навмання взяла одну банку. Яка ймовірність того, що вона буде з абрикосовим джемом?

А	Б	В	Г	Д
$\frac{1}{3}$	$\frac{1}{6}$	$\frac{2}{3}$	$\frac{1}{18}$	$\frac{1}{2}$

Шкіль М.І., Слєпкань З.І., Дубинчук О.С. Алгебра і початки аналізу: Підруч. для 11 кл. загальноосвіт. навч. закладів. – К.: Зодіак-ЕКО, 2002. – С. 230-232.

Нелін Є.П., Долгова О.Є. Алгебра і початки аналізу: Дворівневий підруч. для 11 кл. загальноосвіт. навч. закладів. – Х.: Світ дитинства, 2005. – С.276-285.

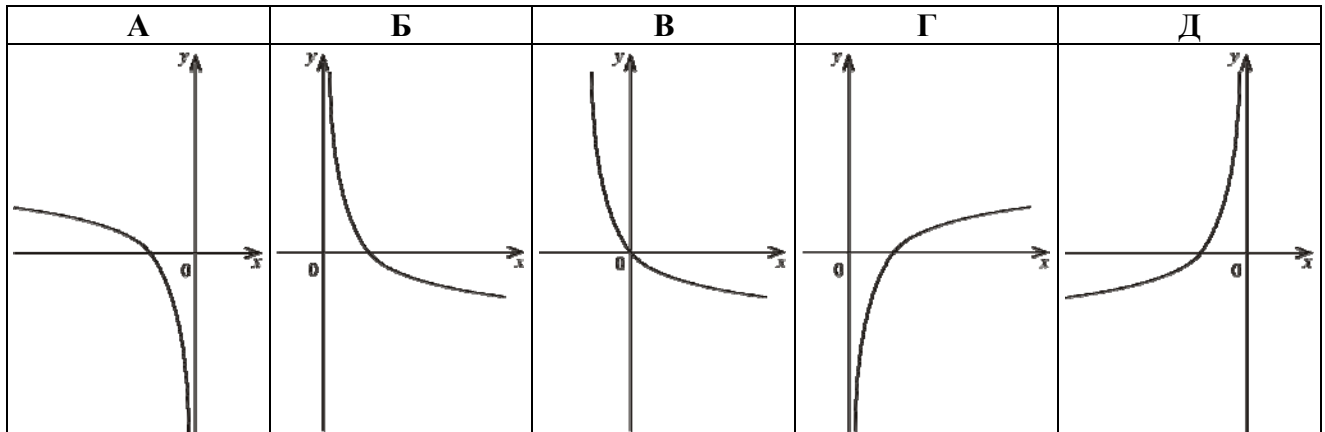
19. Знайдіть значення похідної функції $f(x) = 2x^3 - 5$ у точці $x_0 = -1$.

А	Б	В	Г	Д
-11	-7	1	3	6

Шкіль М.І., Слєпкань З.І., Дубинчук О.С. Алгебра і початки аналізу: Підруч. для 11 кл. загальноосвіт. навч. закладів. – К.: Зодіак-ЕКО, 2002. – С. 66-78.

Нелін Є.П., Долгова О.Є. Алгебра і початки аналізу: Дворівневий підруч. для 11 кл. загальноосвіт. навч. закладів. – Х.: Світ дитинства, 2005. – С. 45-60.

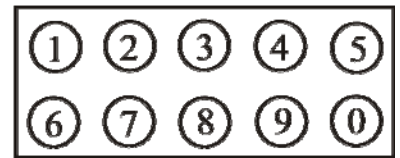
20. На одному з рисунків зображено ескіз графіка функції $y = -\log_4 x$. Укажіть цей рисунок.



Шкіль М.І., Слєпкань З.І., Дубинчук О.С. Алгебра і початки аналізу: Підруч. для 10 кл. загальноосвіт. навч. закладів. – К.: Зодіак-ЕКО, 2002. – С. 16-21, 226-230.

Нелін Є.П. Алгебра і початки аналізу: Дворівневий підруч. для 10 кл. загальноосвіт. навч. закладів. – Х.: Світ дитинства, 2006. – С. 28-30, 366-372.

21. Кодовий замок на дверях має десять кнопок, на яких нанесено десять різних цифр (див. рисунок). Щоб відчинити двері, потрібно одночасно натиснути дві кнопки, цифри на яких складають код замка. Скільки всього існує різних варіантів коду замка? Уважайте, що коди, утворені перестановкою цифр (наприклад, 1-2 і 2-1), є однаковими.

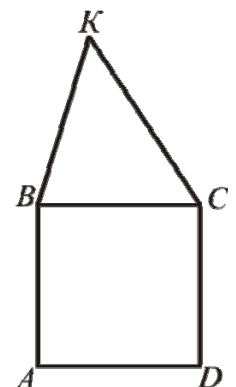


А	Б	В	Г	Д
100	90	45	20	10

Шкіль М.І., Слєпкань З.І., Дубинчук О.С. Алгебра і початки аналізу: Підруч. для 11 кл. загальноосвіт. навч. закладів. – К.: Зодіак-ЕКО, 2002. – С. 206-209.

Нелін Є.П., Долгова О.Є. Алгебра і початки аналізу: Дворівневий підруч. для 11 кл. загальноосвіт. навч. закладів. – Х.: Світ дитинства, 2005. – С.245-246.

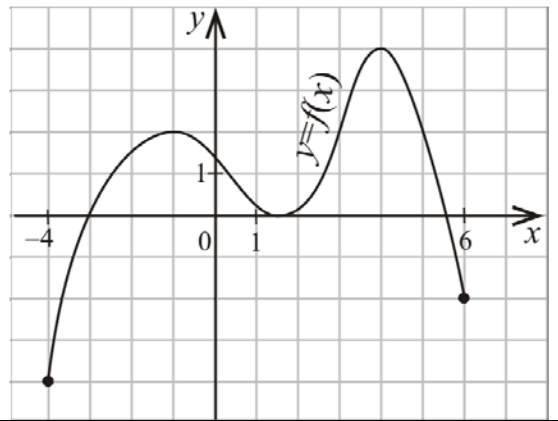
22. На рисунку зображено квадрат $ABCD$ і трикутник BKC , периметри яких відповідно дорівнюють 24 см і 20 см . Знайдіть периметр п'ятикутника $ABKCD$.



А	Б	В	Г	Д
28 см	32 см	34 см	38 см	44 см

Бевз Г.П., Бевз В.Г., Владімірова Н.Г. Геометрія. Підруч. для 7-9 кл. загальноосвіт. навч. закл. – К.: Вежа, 2004. – С. 40-41, 103, 204-206.

23. На рисунку зображено графік функції $y = f(x)$, яка визначена на відрізку $[-4; 6]$. Укажіть усі значення x , для яких виконується нерівність $f(x) \geq 2$?



А	Б	В	Г	Д
$\{2\} \cup [3; 5]$	$[-4; 3] \cup [5; 6]$	$[3; 5]$	$[2; 4]$	$\{-1\} \cup [3; 5]$

Нерівність $f(x) \geq 2$ розв'язується графічно. Зміст графічного методу розв'язування нерівностей розкрито у темах, присвячених розв'язуванню квадратичних нерівностей (9 клас) та найпростіших тригонометричних нерівностей (10 клас).

Бевз Г.П. Алгебра: Підруч. для 7-9 кл. – К.: Школяр, 2002. – С. 221-223.

Шкіль М.І., Слєпкань З.І., Дубинчук О.С. Алгебра і початки аналізу: Підруч. для 10 кл. загальноосвіт. навч. закладів. – К.: Зодіак-ЕКО, 2002. – С. 131-135.

Нелін Є.П. Алгебра і початки аналізу: Дворівневий підруч. для 10 кл. загальноосвіт. навч. закладів. – Х.: Світ дитинства, 2006. – С. 249-254.

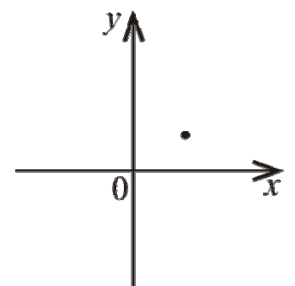
24. Дерев'яний брусок має форму прямокутного паралелепіпеда з вимірами 10 см, 20 см, 80 см. Скільки лаку потрібно для того, щоб один раз покрити ним усю поверхню цього бруска, якщо на 1 м^2 витрачається 100 г лаку?

А	Б	В	Г	Д
0,52 г	26 г	52 г	160 г	520 г

Бевз Г.П., Бевз В.Г., Владімірова Н.Г. Геометрія. Підруч. для 10-11 кл. загальноосвіт. навч. закл. – К.: Вежа, 2004. – С. 107, 110-113.

25. У прямокутній системі координат зображено точку, що є вершиною параболи $y = x^2 + bx + c$ (див. рисунок). Укажіть правильне твердження щодо коефіцієнтів b і c .

А	Б	В	Г	Д
$\begin{cases} b < 0, \\ c > 0 \end{cases}$	$\begin{cases} b > 0, \\ c < 0 \end{cases}$	$\begin{cases} b > 0, \\ c = 0 \end{cases}$	$\begin{cases} b < 0, \\ c < 0 \end{cases}$	$\begin{cases} b > 0, \\ c > 0 \end{cases}$



Бевз Г.П. Алгебра: Підруч. для 7-9 кл. – К.: Школяр, 2002. – С. 218-220.

26. Установіть відповідність між числом (1 – 4) та множиною, до якої воно належить (А – Д).

Число	Множина
1 3,4	А множина натуральних чисел
2 $\sqrt{8}$	Б множина складених чисел
3 $\frac{10}{2}$	В множина цілих чисел, що не є натуральними числами
4 – 13	Г множина дробових чисел Д множина ірраціональних чисел

Бевз Г.П., Бевз В.Г. Математика: Підруч. для 5 кл. загальноосвіт. навч. закл. – К.: Зодіак-ЕКО, 2005. – С. 8-9.

Бевз Г.П., Бевз В.Г. Математика: 6 кл.: Підруч. для загальноосвіт. навч. закл. – К.: Генеза, 2006. – С. 6, 182-183.

Бевз Г.П. Алгебра: Підруч. для 7-9 кл. – К.: Школяр, 2002. – С. 129-130.

27. Установіть відповідність між функціями, заданими формулами (1 – 4), та їхніми властивостями (А – Д).

Функція	Властивість функції
1 $y = \cos x$	А областю визначення функції є інтервал $(0; +\infty)$
2 $y = \operatorname{ctg} x$	Б областю значень функції є відрізок $[-1; 1]$
3 $y = 4$	В функція спадає на інтервалі $(-\infty; +\infty)$
4 $y = \left(\frac{1}{3}\right)^x$	Г непарна функція Д періодична функція, що не має найменшого додатного періоду

Шкіль М.І., Слєпкань З.І., Дубинчук О.С. Алгебра і початки аналізу: Підруч. для 10 кл. загальноосвіт. навч. закладів. – К.: Зодіак-ЕКО, 2002. – С. 9-10, 46, 59-61, 189-196.

Нелін Є.П. Алгебра і початки аналізу: Дворівневий підруч. для 10 кл. загальноосвіт. навч. закладів. – Х.: Світ дитинства, 2006. – С. 20-21, 60-63, 67-69, 328-336.

28. Установіть відповідність між перерізами геометричних тіл (1 – 4) та їхніми назвами (А – Д).

<i>Переріз</i>	<i>Назва перерізу</i>
1 діагональний переріз правильної шестикутної призми	А круг
2 переріз циліндра площиною, що перетинає його твірну і перпендикулярна до неї	Б коло
3 переріз конуса площиною, що проходить через його вершину та хорду основи	В шестикутник
4 переріз сфери площиною, що проходить через дві різні точки сфери	Г прямокутник
	Д трикутник

Бевз Г.П., Бевз В.Г., Владімірова Н.Г. Геометрія. Підруч. для 10-11 кл. загальноосвіт. навч. закл. – К.: Вежа, 2004. – С. 106, 134, 139, 146.

29. Знайдіть значення виразу $6^{2\log_6 9 - \log_6 4}$.

Шкіль М.І., Слєпкань З.І., Дубинчук О.С. Алгебра і початки аналізу: Підруч. для 10 кл. загальноосвіт. навч. закладів. – К.: Зодіак-ЕКО, 2002. – С. 211-219.

Нелін Є.П. Алгебра і початки аналізу: Дворівневий підруч. для 10 кл. загальноосвіт. навч. закладів. – Х.: Світ дитинства, 2006. – С. 357-364.

30. Робітники отримали замовлення викопати криницю. За перший викопаний у глибину метр криниці їм платять 50 грн, а за кожний наступний – на 20 грн більше, ніж за попередній. Скільки грошей (у грн) сплатять робітникам за викопану криницю завглибшки 12 м?

Бевз Г.П. Алгебра: Підруч. для 7-9 кл. – К.: Школяр, 2002. – С. 237-242.

31. Розв'яжіть нерівність $\left(\frac{1}{2}\right)^{x^2-x} > 8^{x-5}$. У відповідь запишіть суму всіх цілих розв'язків цієї нерівності. Якщо нерівність має безліч цілих розв'язків, то у відповідь запишіть число 100.

Шкіль М.І., Слєпкань З.І., Дубинчук О.С. Алгебра і початки аналізу: Підруч. для 10 кл. загальноосвіт. навч. закладів. – К.: Зодіак-ЕКО, 2002. – С. 205-206.

Нелін Є.П. Алгебра і початки аналізу: Дворівневий підруч. для 10 кл. загальноосвіт. навч. закладів. – Х.: Світ дитинства, 2006. – С. 351-356.

32. Тарас може доїхати на велосипеді від села до станції за 3 год, а пішки дійти за 7 год. Його швидкість пішки на 8 км/год менша, ніж на велосипеді. Знайдіть відстань від села до станції (у км).

Бевз Г.П. Алгебра: Підруч. для 7-9 кл. – К.: Школяр, 2002. – С. 14-19.

33. Два кола, довжини яких дорівнюють 9π см і 36π см, мають внутрішній дотик. Знайдіть відстань між центрами цих кіл (у см).

Бевз Г.П., Бевз В.Г., Владімірова Н.Г. Геометрія. Підруч. для 7-9 кл. загальноосвіт. навч. закл. – К.: Вежа, 2004. – С. 70, 217-218.

34. Обчисліть площу фігури, обмеженої лініями: $y = 2\sin x$, $y = \cos x$, $x = \frac{\pi}{2}$, $x = \pi$.

Шкіль М.І., Слєпкань З.І., Дубинчук О.С. Алгебра і початки аналізу: Підруч. для 11 кл. загальноосвіт. навч. закладів. – К.: Зодіак-ЕКО, 2002. – С. 141-144.

Нелін Є.П., Долгова О.Є. Алгебра і початки аналізу: Дворівневий підруч. для 11 кл. загальноосвіт. навч. закладів. – Х.: Світ дитинства, 2005. – С. 209-211.

35. Основою піраміди є прямокутний трикутник, гіпотенуза якого дорівнює $4\sqrt{3}$ см, гострий кут – 30° . Усі бічні ребра піраміди нахилені до площини її основи під кутом 45° . Знайдіть об'єм піраміди (у см³).

Бевз Г.П., Бевз В.Г., Владімірова Н.Г. Геометрія. Підруч. для 10-11 кл. загальноосвіт. навч. закл. – К.: Вежа, 2004. – С. 169-171.

36. Розв'яжіть рівняння $\sqrt{2x^2 + 7x - 9} + |\sin(\pi x) + 1| = 0$. Якщо рівняння має один корінь, то запишіть його у відповідь. Якщо рівняння має більше, ніж один корінь, то у відповідь запишіть суму всіх коренів.

Нелін Є.П. Алгебра і початки аналізу: Дворівневий підруч. для 10 кл. загальноосвіт. навч. закладів. – Х.: Світ дитинства, 2006. – С. 161-164, 198-201, 277-281.